

Cognome:

Nome:

Matricola:

1) Tracciare i cerchi di Mohr di

$$T = \begin{bmatrix} 0 & -2 & 0 \\ -2 & 2 & 0 \\ 0 & 0 & 7 \end{bmatrix}$$

2) Analisi della deformazione

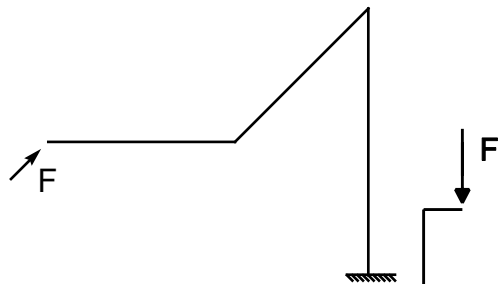
3) Ellisse di Culmann e sue proprietà

Cognome:

Nome:

Matricola:

1) Eseguire la verifica di resistenza della seguente struttura:



2) Potenziale elastico e sue proprietà

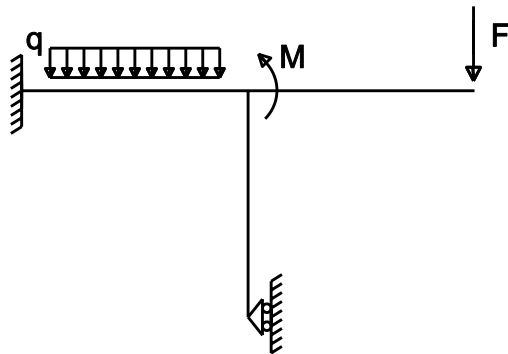
3) Trattazione approssimata del taglio

Cognome:

Nome:

Matricola:

1) Utilizzare il metodo spostamenti per risolvere la seguente struttura:



2) Legame costitutivo elastico lineare isotropo

3) Calcolo delle tensioni tangenziali da taglio per sezioni circolari

Cognome:

Nome:

Matricola:

1) Tracciare i cerchi di Mohr di

$$T = \begin{bmatrix} 0 & 0 & -1 \\ 0 & 2 & 0 \\ -1 & 0 & 7 \end{bmatrix}$$

2) Teorema di Cauchy

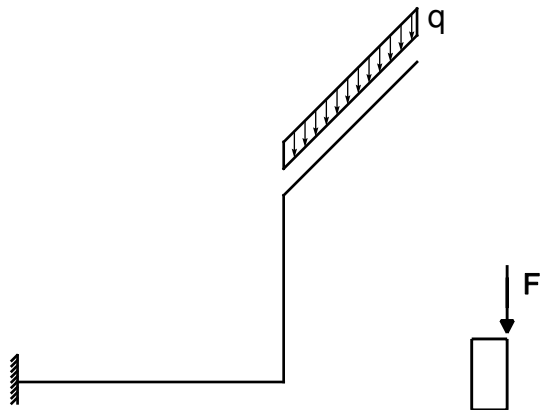
3) Torsione

Cognome:

Nome:

Matricola:

1) Eseguire la verifica di resistenza della seguente struttura:



2) Principio degli spostamenti virtuali

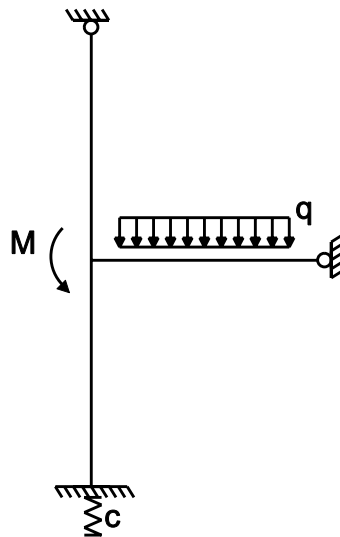
3) Pressoflessione

Cognome:

Nome:

Matricola:

1) Utilizzare il metodo spostamenti per risolvere la seguente struttura:



2) Tensioni principali ed invarianti dello stato tensionale

3) Centro di taglio

Cognome:

Nome:

Matricola:

1) Tracciare i cerchi di Mohr di

$$T = \begin{bmatrix} 0 & 0 & 0 \\ 0 & 2 & 8 \\ 0 & 8 & 7 \end{bmatrix}$$

2) Proprietà dello stato tensionale

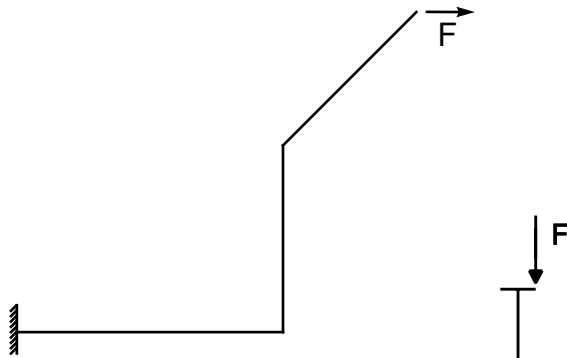
3) Torsione in sezioni rettangolari allungate

Cognome:

Nome:

Matricola:

1) Eseguire la verifica di resistenza della seguente struttura:



2) Principio delle forze virtuali

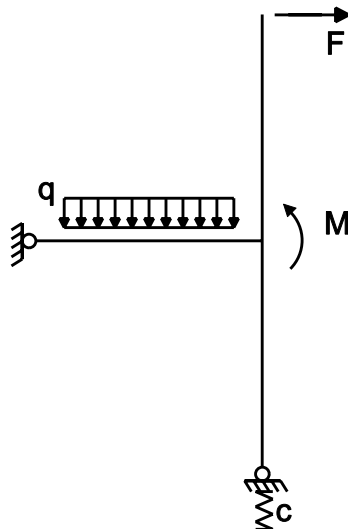
3) Modello di De Saint Venant

Cognome:

Nome:

Matricola:

1) Utilizzare il metodo spostamenti per risolvere la seguente struttura:



2) Teoremi di Betti e Clapeyron

3) Pressoflessione

Cognome:

Nome:

Matricola:

1) Tracciare i cerchi di Mohr di

$$T = \begin{bmatrix} 0 & -2 & 0 \\ -2 & 2 & 0 \\ 0 & 0 & 7 \end{bmatrix}$$

2) Dimostrazione del cerchio di Mohr e sue proprietà

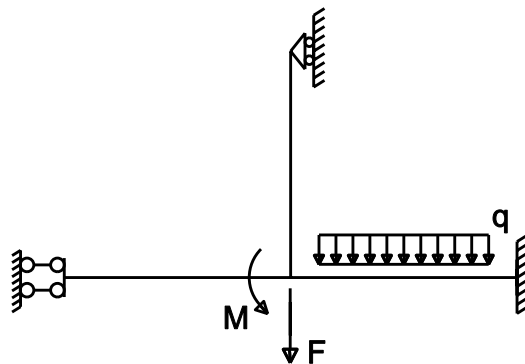
3) Formula di Bredt

Cognome:

Nome:

Matricola:

1) Utilizzare il metodo spostamenti per risolvere la seguente struttura:



2) Criteri di resistenza

3) Equazione della linea elastica

Cognome:

Nome:

Matricola:

1) Tracciare i cerchi di Mohr di

$$T = \begin{bmatrix} 5 & -5 & 0 \\ -5 & -2 & 0 \\ 0 & 0 & -7 \end{bmatrix}$$

2) Potenziale elastico e sue proprietà

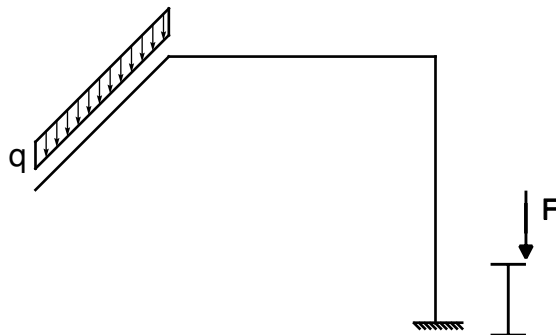
3) Ellisse di Culmann e sue proprietà

Cognome:

Nome:

Matricola:

1) Eseguire la verifica di resistenza della seguente struttura:



2) Tensioni principali ed invarianti dello stato tensionale

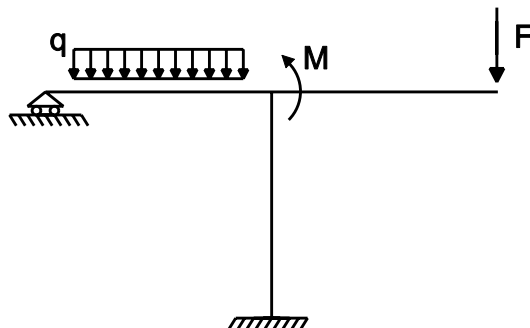
3) Pressoflessione

Cognome:

Nome:

Matricola:

1) Utilizzare il metodo spostamenti per risolvere la seguente struttura:



2) Proprietà dello stato tensionale

3) Trattazione approssimata del taglio

Cognome:

Nome:

Matricola:

1) Tracciare i cerchi di Mohr di

$$T = \begin{bmatrix} 5 & 0 & 0 \\ 0 & -2 & 0 \\ 0 & 0 & -7 \end{bmatrix}$$

2) Teoremi di Betti e Clapeyron

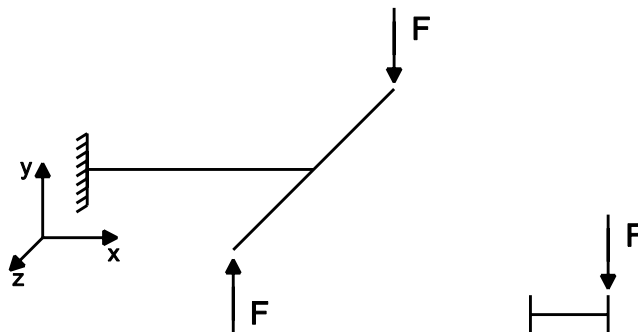
3) Centro di taglio

Cognome:

Nome:

Matricola:

1) Eseguire la verifica di resistenza della seguente struttura:



2) Principio degli spostamenti virtuali

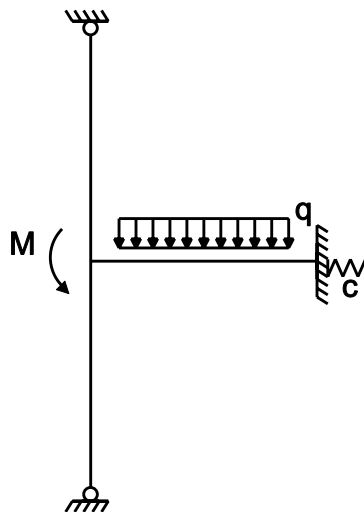
3) Modello di De Saint Venant

Cognome:

Nome:

Matricola:

1) Utilizzare il metodo spostamenti per risolvere la seguente struttura:



2) Teorema di Cauchy

3) Torsione in sezioni rettangolari allungate

Cognome:

Nome:

Matricola:

1) Tracciare i cerchi di Mohr di

$$T = \begin{bmatrix} 5 & 0 & 0 \\ 0 & -2 & 4 \\ 0 & 4 & -7 \end{bmatrix}$$

2) Principio delle forze virtuali

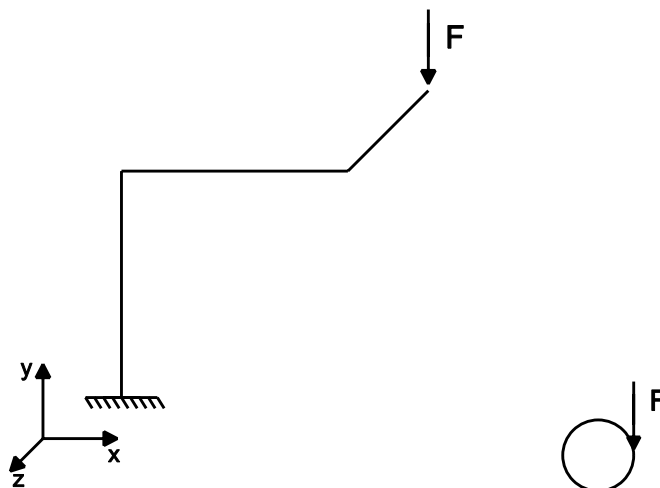
3) Calcolo delle tensioni tangenziali da taglio per sezioni circolari

Cognome:

Nome:

Matricola:

1) Eseguire la verifica di resistenza della seguente struttura:



2) Legame costitutivo elastico lineare isotropo

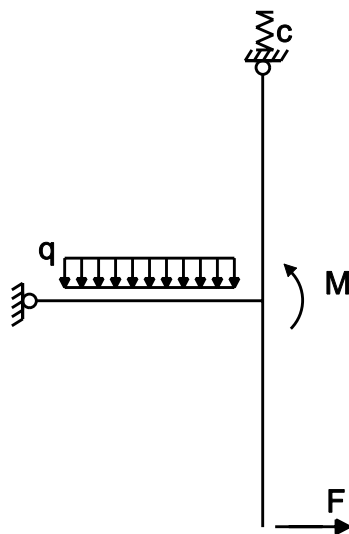
3) Torsione

Cognome:

Nome:

Matricola:

1) Utilizzare il metodo spostamenti per risolvere la seguente struttura:



2) Analisi della deformazione

3) Formula di Bredt

Cognome:

Nome:

Matricola:

1) Tracciare i cerchi di Mohr di

$$T = \begin{bmatrix} 5 & -5 & 0 \\ -5 & -2 & 0 \\ 0 & 0 & -7 \end{bmatrix}$$

2) Dimostrazione del cerchio di Mohr e sue proprietà

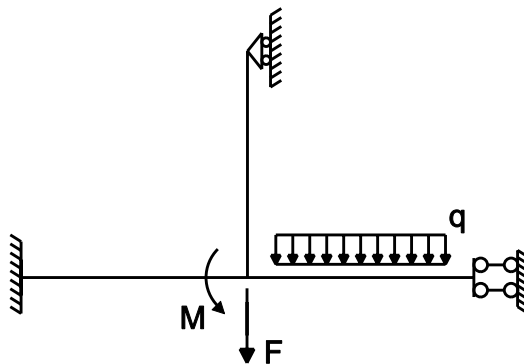
3) Equazione della linea elastica

Cognome:

Nome:

Matricola:

1) Utilizzare il metodo spostamenti per risolvere la seguente struttura:



2) Criteri di resistenza

3) Equazione della linea elastica

Cognome:

Nome:

Matricola:

1) Tracciare i cerchi di Mohr di

$$T = \begin{bmatrix} -2 & 6 & 0 \\ 6 & 7 & 0 \\ 0 & 0 & -2 \end{bmatrix}$$

2) Proprietà dello stato tensionale

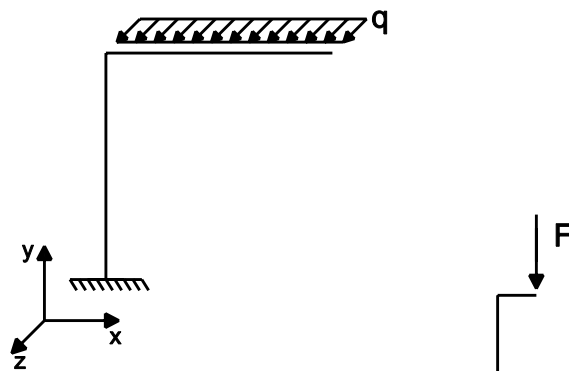
3) Trattazione approssimata del taglio

Cognome:

Nome:

Matricola:

1) Eseguire la verifica di resistenza della seguente struttura:



2) Potenziale elastico e sue proprietà

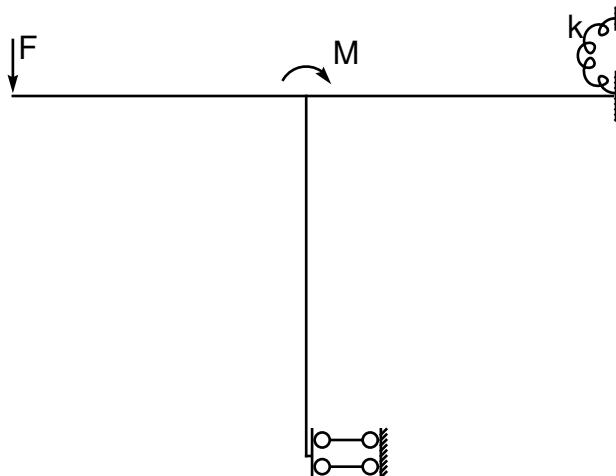
3) Ellisse di Culmann e sue proprietà

Cognome:

Nome:

Matricola:

1) Utilizzare il metodo spostamenti per risolvere la seguente struttura:



2) Teoremi di Betti e Clapeyron

3) Centro di taglio

Cognome:

Nome:

Matricola:

1) Tracciare i cerchi di Mohr di

$$T = \begin{bmatrix} -2 & 0 & 2 \\ 0 & 7 & 0 \\ 2 & 0 & -2 \end{bmatrix}$$

2) Teorema di Cauchy

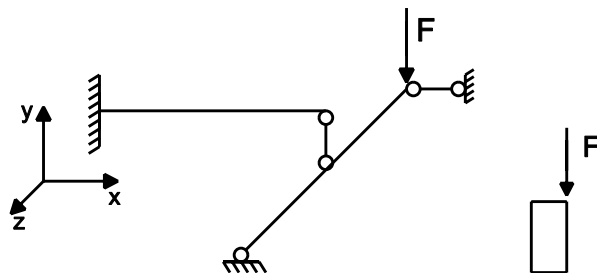
3) Formula di Bredt

Cognome:

Nome:

Matricola:

1) Eseguire la verifica di resistenza della seguente struttura:



2) Principio delle forze virtuali

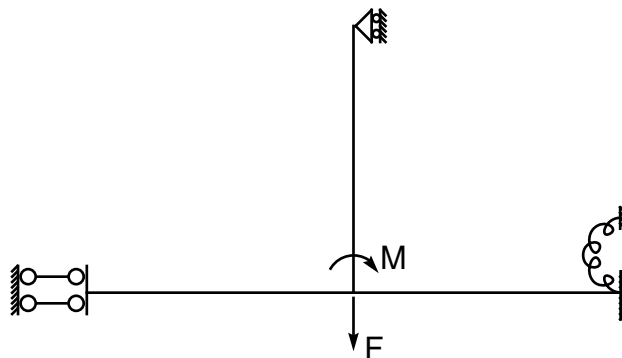
3) Torsione

Cognome:

Nome:

Matricola:

1) Utilizzare il metodo spostamenti per risolvere la seguente struttura:



2) Criteri di resistenza

3) Calcolo delle tensioni tangenziali da taglio per sezioni circolari

Cognome:

Nome:

Matricola:

1) Tracciare i cerchi di Mohr di

$$T = \begin{bmatrix} -2 & 0 & 0 \\ 0 & 7 & 4 \\ 0 & 4 & -2 \end{bmatrix}$$

2) Analisi della deformazione

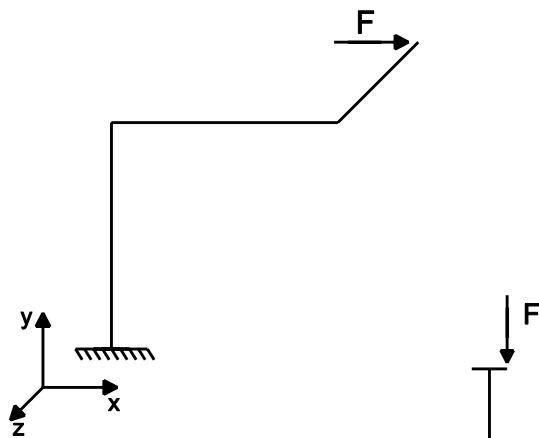
3) Pressoflessione

Cognome:

Nome:

Matricola:

1) Eseguire la verifica di resistenza della seguente struttura:



2) Tensioni principali ed invarianti dello stato tensionale

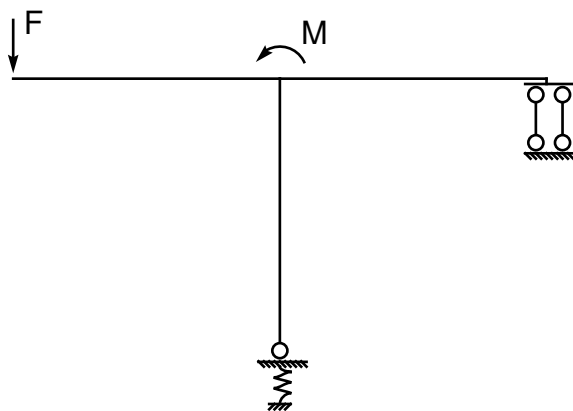
3) Torsione in sezioni rettangolari allungate

Cognome:

Nome:

Matricola:

1) Utilizzare il metodo spostamenti per risolvere la seguente struttura:



2) Legame costitutivo elastico lineare isotropo

3) Modello di De Saint Venant

Cognome:

Nome:

Matricola:

1) Tracciare i cerchi di Mohr di

$$T = \begin{bmatrix} -2 & 6 & 0 \\ 6 & 7 & 0 \\ 0 & 0 & -2 \end{bmatrix}$$

2) Principio degli spostamenti virtuali

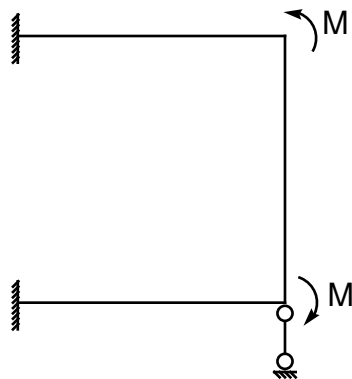
3) Equazione della linea elastica

Cognome:

Nome:

Matricola:

1) Utilizzare il metodo spostamenti per risolvere la seguente struttura:



2) Dimostrazione del cerchio di Mohr e sue proprietà

3) Torsione in sezioni rettangolari allungate

Cognome:

Nome:

Matricola:

1) Tracciare i cerchi di Mohr di

$$T = \begin{bmatrix} 3 & -5 & 0 \\ -5 & 3 & 0 \\ 0 & 0 & -8 \end{bmatrix}$$

2) Legame costitutivo elastico lineare isotropo

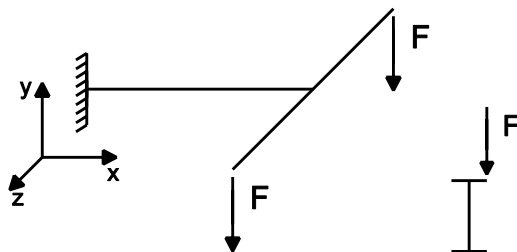
3) Centro di taglio

Cognome:

Nome:

Matricola:

1) Eseguire la verifica di resistenza della seguente struttura:



2) Potenziale elastico e sue proprietà

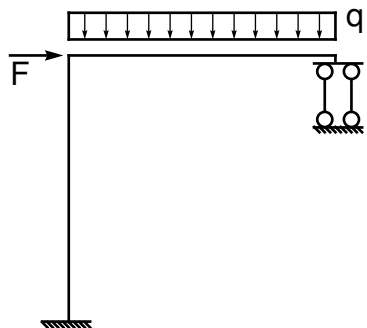
3) Trattazione approssimata del taglio

Cognome:

Nome:

Matricola:

1) Utilizzare il metodo spostamenti per risolvere la seguente struttura:



2) Teoremi di Betti e Clapeyron

3) Formula di Bredt

Cognome:

Nome:

Matricola:

1) Tracciare i cerchi di Mohr di

$$T = \begin{bmatrix} 3 & 0 & -5 \\ 0 & 3 & 0 \\ -5 & 0 & -8 \end{bmatrix}$$

2) Proprietà dello stato tensionale

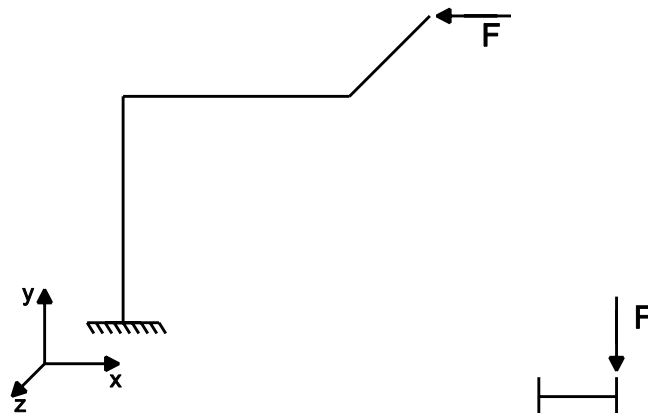
3) Formula di Bredt

Cognome:

Nome:

Matricola:

1) Eseguire la verifica di resistenza della seguente struttura:



2) Criteri di resistenza

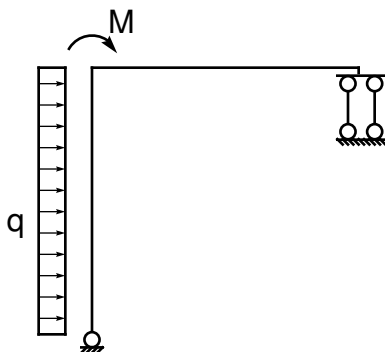
3) Ellisse di Culmann e sue proprietà

Cognome:

Nome:

Matricola:

1) Utilizzare il metodo spostamenti per risolvere la seguente struttura:



2) Dimostrazione del cerchio di Mohr e sue proprietà

3) Torsione

Cognome:

Nome:

Matricola:

1) Tracciare i cerchi di Mohr di

$$T = \begin{bmatrix} 3 & 0 & 0 \\ 0 & 3 & 8 \\ 0 & 8 & -8 \end{bmatrix}$$

2) Teorema di Cauchy

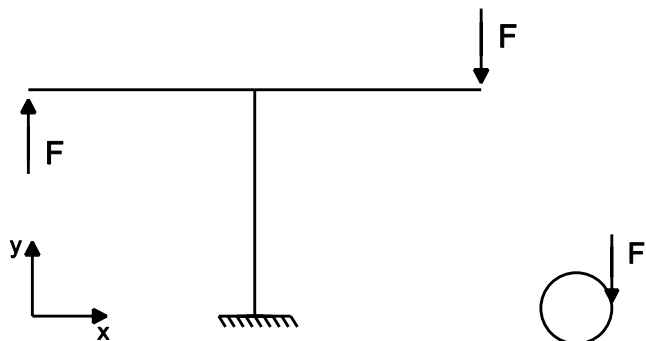
3) Pressoflessione

Cognome:

Nome:

Matricola:

1) Eseguire la verifica di resistenza della seguente struttura:



2) Principio degli spostamenti virtuali

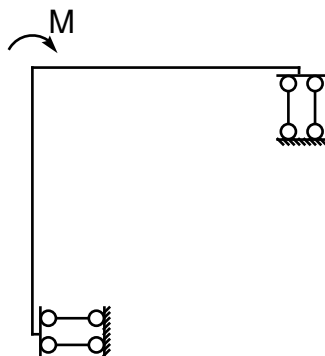
3) Calcolo delle tensioni tangenziali da taglio per sezioni circolari

Cognome:

Nome:

Matricola:

1) Utilizzare il metodo spostamenti per risolvere la seguente struttura:



2) Analisi della deformazione

3) Torsione in sezioni rettangolari allungate

Cognome:

Nome:

Matricola:

1) Tracciare i cerchi di Mohr di

$$T = \begin{bmatrix} 3 & -5 & 0 \\ -5 & 3 & 0 \\ 0 & 0 & -8 \end{bmatrix}$$

2) Tensioni principali ed invarianti dello stato tensionale

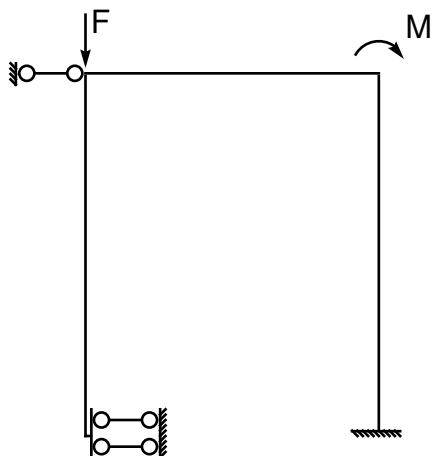
3) Modello di De Saint Venant

Cognome:

Nome:

Matricola:

1) Utilizzare il metodo spostamenti per risolvere la seguente struttura:



2) Principio delle forze virtuali

3) Equazione della linea elastica

Cognome:

Nome:

Matricola:

1) Tracciare i cerchi di Mohr di

$$T = \begin{bmatrix} 1 & -5 & 0 \\ -5 & 0 & 0 \\ 0 & 0 & 0 \end{bmatrix}$$

2) Teorema di Cauchy

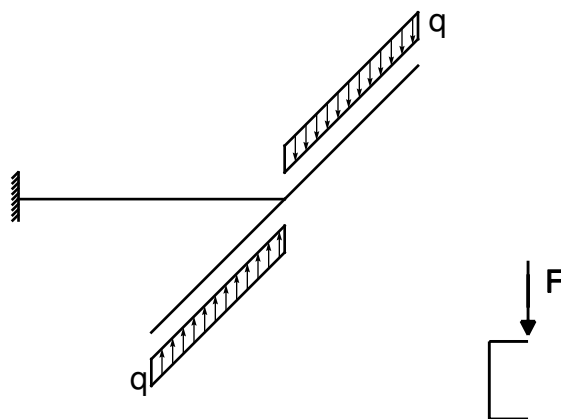
3) Trattazione approssimata del taglio

Cognome:

Nome:

Matricola:

1) Eseguire la verifica di resistenza della seguente struttura:



2) Teoremi di Betti e Clapeyron

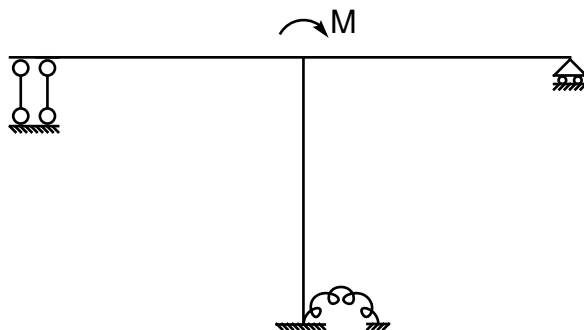
3) Centro di taglio

Cognome:

Nome:

Matricola:

1) Utilizzare il metodo spostamenti per risolvere la seguente struttura:



2) Criteri di resistenza

3) Ellisse di Culmann e sue proprietà

Cognome:

Nome:

Matricola:

1) Tracciare i cerchi di Mohr di

$$T = \begin{bmatrix} 1 & 0 & -2 \\ 0 & 0 & 0 \\ -2 & 0 & 0 \end{bmatrix}$$

2) Analisi della deformazione

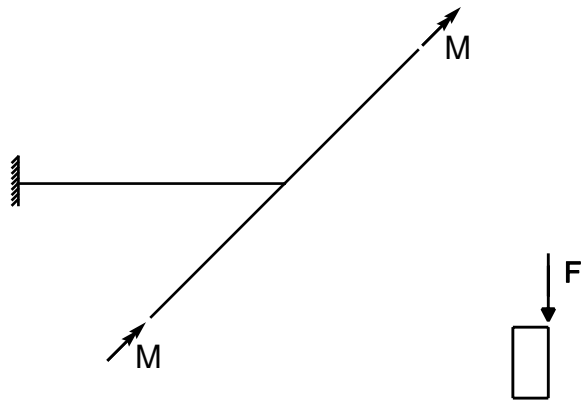
3) Formula di Bredt

Cognome:

Nome:

Matricola:

1) Eseguire la verifica di resistenza della seguente struttura:



2) Principio degli spostamenti virtuali

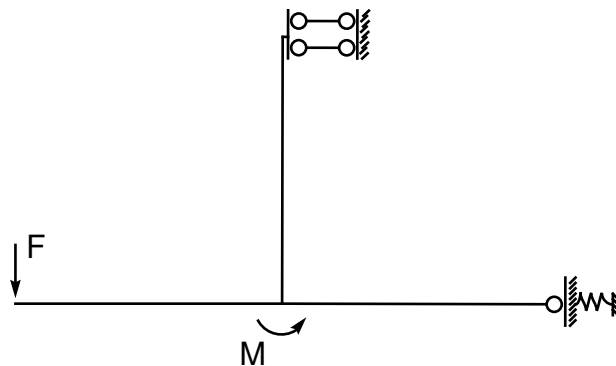
3) Torsione

Cognome:

Nome:

Matricola:

1) Utilizzare il metodo spostamenti per risolvere la seguente struttura:



2) Legame costitutivo elastico lineare isotropo

3) Calcolo delle tensioni tangenziali da taglio per sezioni circolari

Cognome:

Nome:

Matricola:

1) Tracciare i cerchi di Mohr di

$$T = \begin{bmatrix} 1 & 0 & 0 \\ 0 & 0 & 4 \\ 0 & 4 & 0 \end{bmatrix}$$

2) Potenziale elastico e sue proprietà

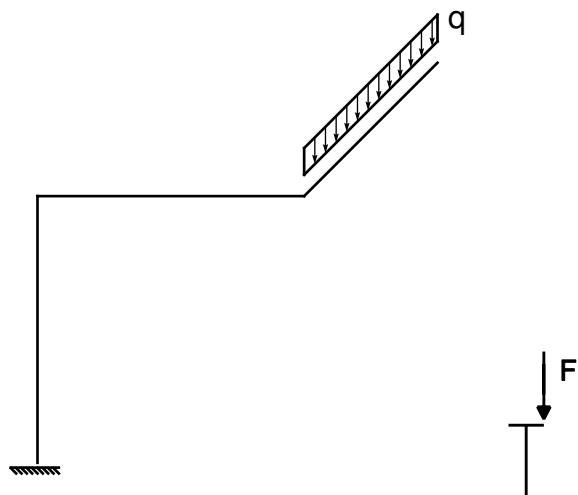
3) Pressoflessione

Cognome:

Nome:

Matricola:

1) Eseguire la verifica di resistenza della seguente struttura:



2) Tensioni principali ed invarianti dello stato tensionale

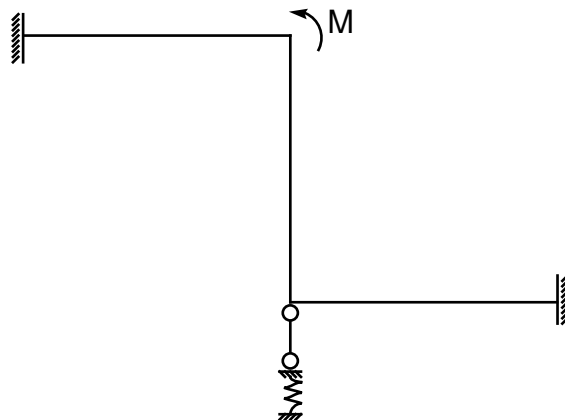
3) Equazione della linea elastica

Cognome:

Nome:

Matricola:

1) Utilizzare il metodo spostamenti per risolvere la seguente struttura:



2) Dimostrazione del cerchio di Mohr e sue proprietà

3) Torsione in sezioni rettangolari allungate

Cognome:

Nome:

Matricola:

1) Tracciare i cerchi di Mohr di

$$T = \begin{bmatrix} 1 & -5 & 0 \\ -5 & 0 & 0 \\ 0 & 0 & 0 \end{bmatrix}$$

2) Principio delle forze virtuali

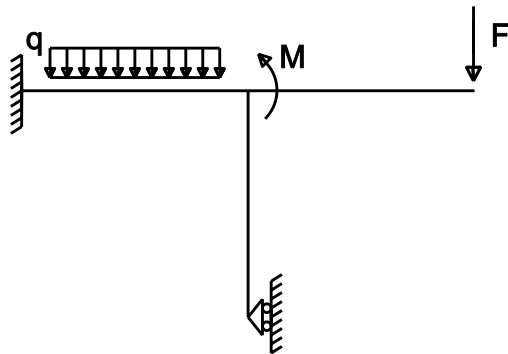
3) Modello di De Saint Venant

Cognome:

Nome:

Matricola:

1) Utilizzare il metodo spostamenti per risolvere la seguente struttura:



2) Proprietà dello stato tensionale

3) Centro di taglio